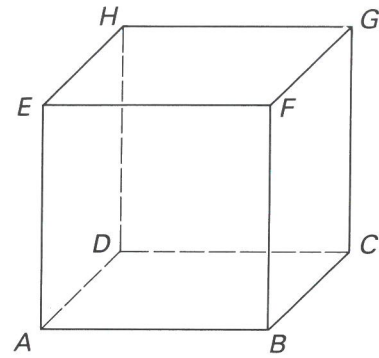
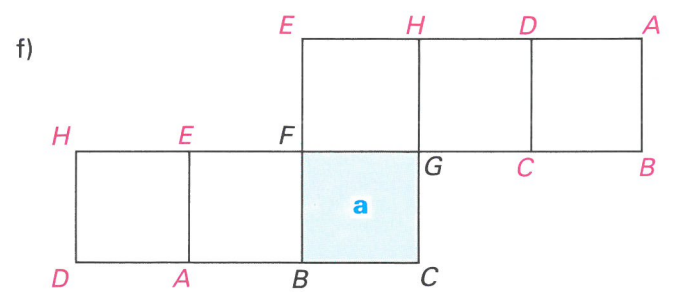
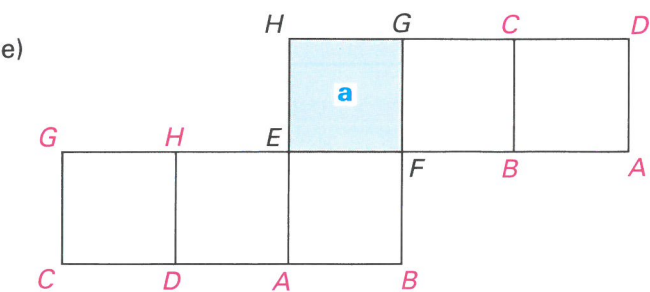
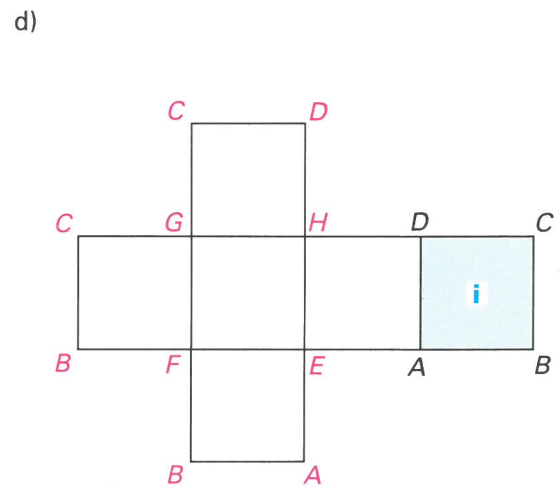
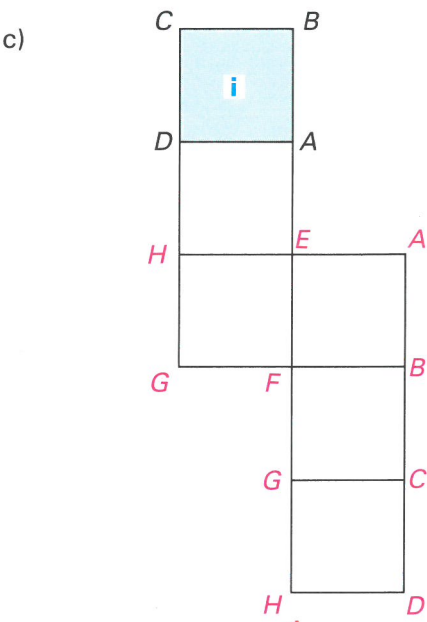
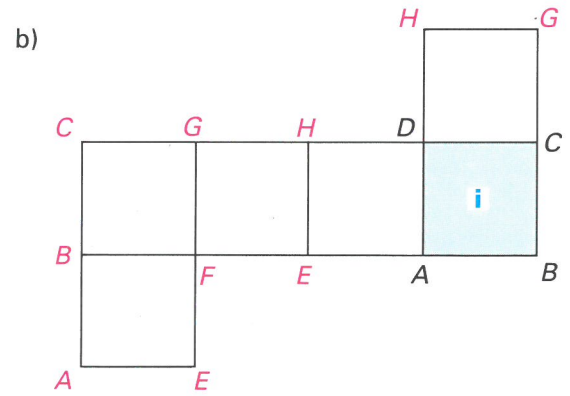
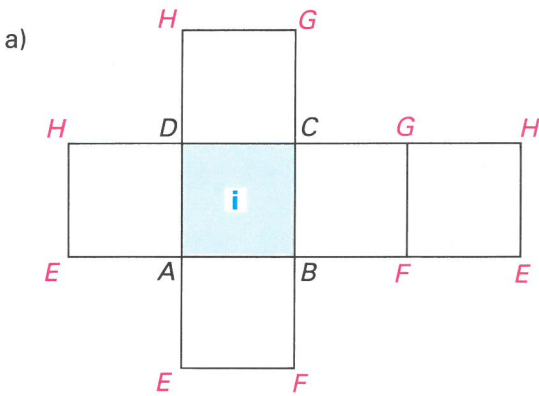


Gegeben sind der abgebildete Würfel und das zugehörige Netz (im Massstab 1:2 gezeichnet). Schreibe alle nicht bezeichneten Ecken an. (Beachte: Es gibt verschiedene Quadratecken, zu denen derselbe Buchstabe gehört.)



a: «aussen» (Aussenseite der Fläche)
i: «innen» (Innenseite der Fläche)



Die in den Netzen eingezeichneten Pfeile entsprechen den auf den Würfeln von aussen sichtbaren Pfeilen. Zeichne farbig die den punktierten Seitenflächen, den kräftig markierten Kanten und Eckpunkten entsprechenden Flächen, Kanten und Punkte in den zugehörigen Netzen bzw. Raumbildern.

<p>1.</p>		<p>2.</p>	
<p>3.</p>		<p>4.</p>	
<p>5.</p>		<p>6.</p>	
<p>7.</p>		<p>8.</p>	
<p>9.</p>		<p>10.</p>	
<p>11.</p>		<p>12.</p>	